

Н.П. Брудко,
О.Б. Сліпець, О.П. Фучила

Зошит з математики 2 клас

У двох частинах

Частина 2



ТЕРНОПІЛЬ
НАВЧАЛЬНА КНИГА – БОГДАН



1. Встанови закономірність і продовж ряд чисел до 20.

2, 4, 6, , , , 14, , , 20.


2. Заміни додавання множенням.

$$6 + 6 + 6 + 6 = \boxed{} \boxed{} \boxed{} \boxed{} \boxed{} \boxed{}$$

$$8 + 8 + 8 + 8 + 8 + 8 + 8 = \boxed{} \boxed{} \boxed{} \boxed{} \boxed{} \boxed{} \boxed{}$$

$$7 + 7 + 7 + 7 + 7 + 7 + 7 + 7 = \boxed{} \boxed{} \boxed{} \boxed{} \boxed{} \boxed{} \boxed{} \boxed{}$$

3. Знайди значення виразу $a - 34$, якщо $a = 50$; 47; 62.




4. Склади і розв'яжи задачу за коротким записом.


Було — ?

Продали — 16 м і 9 м

Залишилося — 40 м



5. Накресли ламану, яка складається з трьох ланок, задовжки 2 см кожна. Знайди довжину ламаної.





1. Встанови закономірність, встав пропущені числа.

21, , 41, , , , 81, .

Зменш усі числа на 8. Запиши результати.


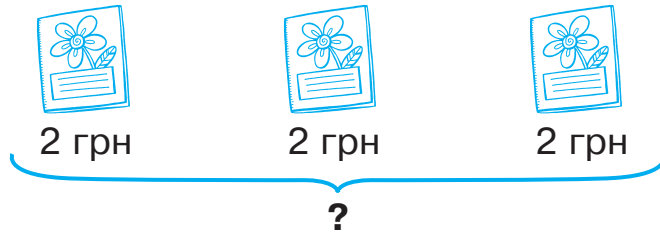


2. Заповни цікаві квадрати.


12	<input type="text"/>	<input type="text"/>
15	<input type="text"/>	<input type="text"/>
18	3	<input type="text"/>

<input type="text"/>	23	<input type="text"/>
<input type="text"/>	30	<input type="text"/>
<input type="text"/>	37	2

3. Склади і розв'яжи задачу за малюнком. Розв'язання запиши спочатку додаванням, а потім множенням.



4. Чебурашка, крокодил Гена і Шапокляк чекали прибуття поїзда 3 години. Скільки годин чекав на поїзд кожен із них?





1. Запиши всі числа другого десятка в порядку спадання.

2. Обчисли.

$78 + 11 = \square\square$

$14 + 53 = \square\square$

$44 - 9 + 3 = \square\square$

$59 - 31 = \square\square$

$7 + 17 = \square\square$

$44 - (9 + 3) = \square\square$

$40 - 12 = \square\square$

$18 + 8 = \square\square$

$70 - 10 - 7 = \square\square$

3. Розв'яжи задачу спочатку додаванням, а потім множенням.

Книжка коштує 18 гривень. Скільки треба заплатити за 4 такі книжки?

4. Заміни, де можна, додавання множенням.

$3 + 3 + 3 = \square\square\square\square\square\square\square$

$15 + 15 + 15 = \square\square\square\square\square\square\square$

$5 + 5 + 5 + 4 = \square\square\square\square\square\square\square$

$43 + 34 = \square\square\square\square\square\square\square$

$4 + 4 + 4 + 4 + 4 = \square\square\square\square\square\square\square$

$6 + 6 + 9 + 6 + 6 = \square\square\square\square\square\square\square$

$7 + 7 + 7 + 7 + 7 = \square\square\square\square\square\square\square$

$12 + 12 + 13 = \square\square\square\square\square\square\square$



1. Встанови закономірність, продовж ряд чисел.

4, 6, , , , , , 18, 20.


2. Порівняй вирази (>, <, =).

$$2 + 2 + 2 + 2 \quad \square \quad 2 \cdot 6 \qquad 2 \cdot 7 \quad \square \quad 2 + 2 + 2 + 2$$

$$2 + 2 + 2 + 2 + 2 \quad \square \quad 2 \cdot 5 \qquad 2 \cdot 3 \quad \square \quad 2 + 2 + 2$$

$$2 + 2 \quad \square \quad 2 \cdot 2 \qquad 2 \cdot 4 \quad \square \quad 2 + 2 + 2 + 2 + 2$$

3. В одному пакеті 2 кг яблук. Скільки кілограмів яблук у 4 таких пакетах?



4. Встав пропущені числа.

$$1 \text{ дм } 2 \text{ см} = \square \square \text{ см}$$

$$54 \text{ см} = \square \text{ дм } \square \text{ см}$$


$$4 \text{ дм } 2 \text{ см} = \square \square \text{ см}$$

$$20 \text{ см} = \square \text{ дм}$$

$$8 \text{ дм } 8 \text{ см} = \square \square \text{ см}$$

$$32 \text{ см} = \square \text{ дм } \square \text{ см}$$

5. Накресли квадрат, сторона якого дорівнює 3 см. Знайди його периметр.





1. Встав пропущені числа.

2, 3, 4, , , , , 9.

Кожне число помнож на 2. Запиши результати.



2. Встав пропущені числа.

$19 < 25 \text{ на } \boxed{}$

$23 + 9 < 90 \text{ на } \boxed{}$


$79 > 22 \text{ на } \boxed{}$

$13 + 4 > 10 \text{ на } \boxed{}$


$26 < 40 \text{ на } \boxed{}$

$9 + 36 < 65 \text{ на } \boxed{}$

3. Купили блузку за 80 грн і дві майки, по 30 грн кожна. На скільки гривень більше заплатили за блузку, ніж за дві майки?



4. Ширина прямокутника 3 см, а довжина — на 1 см довша. Накресли прямокутник і обчисли периметр.





1. Запиши всі непарні числа дев'ятого десятка.

2. Обчисли.

$2 \cdot 7 + 14 = \square \square$

$2 \cdot 3 + 60 = \square \square$

$2 \cdot 8 - 4 = \square \square$

$2 \cdot 4 + 24 = \square \square$

$2 \cdot 9 - 9 = \square \square$

$2 \cdot 6 - 12 = \square \square$

3. Маса курки 2 кг. Яка маса трьох таких курок?

4. Іринка розклала 6 яблук на дві тарілки порівну. Скільки яблук поклала Іринка на кожну тарілку? Намалюй.

5. Накресли два відрізки: перший завдовжки 2 см, а другий — у 4 рази довший.



1. Запиши всі двоцифрові числа, що містять цифру 5.

2. Знайди значення виразу $b + 36$, якщо $b = 14$; 22; 39.

3. На даху будинку сиділо 3 пари голубів і ще 8 поодиноких. Скільки всього голубів сиділо на даху будинку?

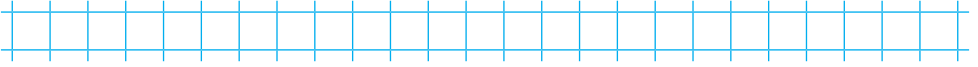
- 4 Розв'яжи рівняння.

$$x + 19 = 50$$

$$34 - x = 4$$



1. Запиши каліграфічно найменше і найбільше двоцифрові числа.

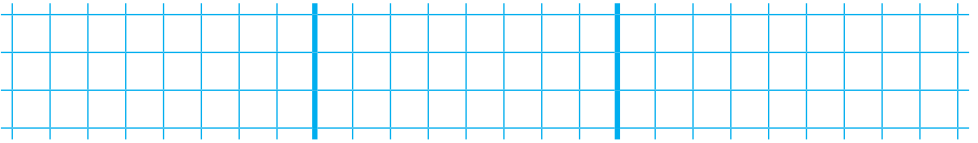


2. З рівностей на множення склади по дві рівності на ділення.


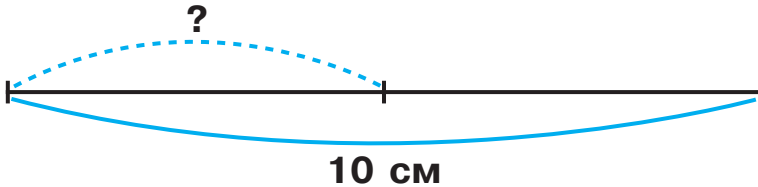
$2 \cdot 3 = \square$

$2 \cdot 6 = \square \square$


$2 \cdot 9 = \square \square$



3. Склади і розв'яжи задачу за схемою.



4. Накресли один відрізок завдовжки 1 дм 1 см, а другий — на 4 см коротший.





1. Запиши всі числа від 1 до 20, що діляться на 2.

2. Порівняй вирази ($>$, $<$, $=$).

$75 - 39 \square 18 + 19$

$34 - 20 \square 2 \cdot 7$

$2 \cdot 8 \square 2 \cdot 6$

$12 : 2 \square 2 \cdot 4$

$2 \cdot 9 \square 9 \cdot 2$

$18 : 2 \square 16 : 4$

3. Мама купила 4 піріжки, по 2 гривні кожний, і калач за 6 гривень. Скільки гривень заплатила мама за всю покупку?

4. Знайди значення виразу $18 + a : 2$, якщо $a = 6; 12; 18$.


5. Заповни цікаві квадрати.

8	<input type="text"/>	<input type="text"/>
<input type="text"/>	10	<input type="text"/>
<input type="text"/>	2	12


<input type="text"/>	<input type="text"/>	24
<input type="text"/>	28	<input type="text"/>
32	12	<input type="text"/>



1. Запиши всі послідовні числа від 15 до 25.



Збільш кожне число на 7.



2. Знайди значення виразів.

$$18 : 2 + 54 = \square\square$$

$$2 \cdot 7 - 8 = \square\square$$


$$12 : 2 + 79 = \square\square$$

$$42 + 2 \cdot 5 = \square\square$$


$$17 + 16 : 2 = \square\square$$

$$14 : 2 - 7 = \square\square$$

3. У магазині було 17 ящиків апельсинів, а лимонів — у 2 рази менше. Скільки ящиків лимонів було у магазині?



4. Довжина прямокутника 6 см, а ширина — у 2 рази менша. Накресли цей прямокутник.





1. За допомогою цифр 1, 2, 3 утвори і запиши всі можливі двоцифрові числа.

--	--	--	--	--	--	--	--	--	--	--	--	--	--	--	--	--	--

2. Встав пропущені числа.

Множник	2	2	2	2	2	2	2	2	2
Множник	5	3			6			8	
Добуток			14	8		18	16		12

3. Знайди значення виразів.

$$2 \cdot 8 - 9 = \square \square$$

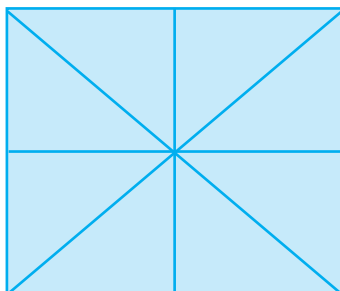
$$80 - 10 : 2 = \square \square$$

$$23 + 16 : 2 = \square \square$$

$$2 \cdot 6 + 17 = \square \square$$

4. Для дитячого садка придбали 8 банок яблучного соку, по 2 л у кожній, і одну трилітрову банку виноградного соку. Скільки всього літрів соку придбали для дитячого садка?

- 5*. Скільки всього трикутників і скільки чотирикутників у фігурі?

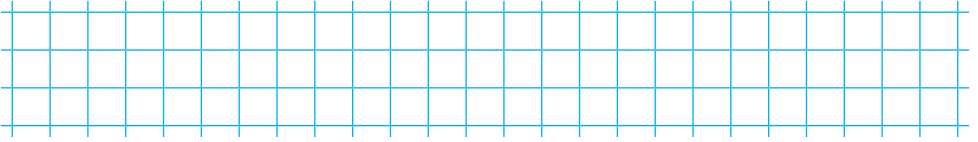


Трикутників

Чотирикутників



1. Запиши результати таблиці множення числа 2.

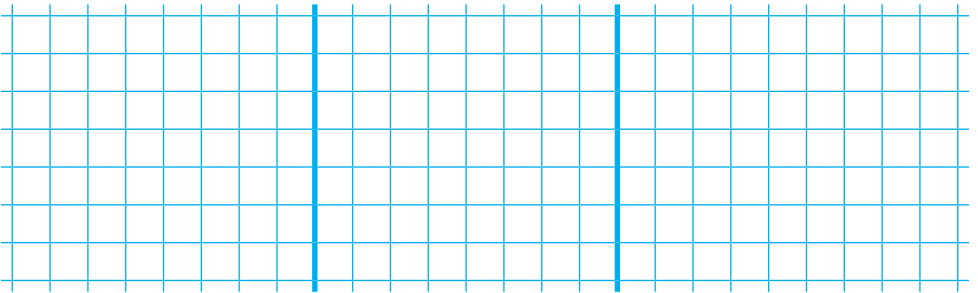


2. Розв'яжи рівняння.

$$x + 27 = 51$$

$$x - 19 = 40$$

$$32 - x = 9$$




3. Склади задачу за коротким записом і розв'яжи її.


Було — 19 м

Продали — 4 відрізи по 2 м

Залишилось — ?



4. Довжина першого відрізка 8 см. Він у 2 рази довший, ніж другий. Накресли ці відрізки.






1. Встанови закономірність. Встав пропущені числа.

2, 4, 6, , , , 14, , , 20.

Зменш числа на 1. Запиши.



2. Обчисли «кругові» вирази.

$2 \cdot 7 + 15 = \square\square$

$29 - 2 \cdot 9 = \square\square$


$5 \cdot 2 - 8 = \square\square$

$11 - 2 \cdot 5 = \square\square$


$1 \cdot 4 + 17 = \square\square$

$21 - 2 \cdot 8 = \square\square$

3. Два зошити коштують 4 грн, а альбом — 7 грн. На скільки гривень зошит дешевший, ніж альбом?



4. Накресли три відрізки: перший завдовжки 3 см, другий — у 2 рази довший, ніж перший, а третій — на 1 см коротший, ніж другий.





1. Встанови закономірність. Продовж ряд чисел.

3	6	9																	

2. Знайди значення виразу $3 \cdot a + 68$, якщо $a = 4$; 7 ; 9 .

3. Чотирьом покупцям продали по 2 пакети молока. Залишилося ще 17 пакетів. Скільки пакетів молока було спочатку?

4. Заповни цікаві квадрати.


11	<input type="text"/>	<input type="text"/>
<input type="text"/>	14	<input type="text"/>
<input type="text"/>	2	17

<input type="text"/>	<input type="text"/>	24
<input type="text"/>	<input type="text"/>	30
<input type="text"/>	6	36




1. Запиши подані числа у порядку спадання.

24, 8, 71, 12, 97, 34, 38, 56, 40.



Зменш кожне число на 7.



2. Знайди і виправ помилки.

$$3 \cdot (4 + 3) = 21 \quad \square \square$$

$$3 \cdot 5 + 3 \cdot 2 = 40 \quad \square \square$$

$$18 : (30 - 28) = 8 \quad \square \square$$

$$3 \cdot 3 + 12 : 2 = 15 \quad \square \square$$

$$(2 + 4) \cdot 3 = 14 \quad \square \square$$

$$(80 - 62) : 2 = 4 \quad \square \square$$


3. Склади і розв'яжи задачу за коротким записом.



— 18, їх у 2 рази більше, ніж



— ?



4. Встав пропущені числа.

$$1 \text{ дм } 4 \text{ см} = \square \square \text{ см}$$

$$56 \text{ см} = \square \text{ дм } \square \text{ см}$$

$$3 \text{ дм } 3 \text{ см} = \square \square \text{ см}$$

$$40 \text{ см} = \square \text{ дм}$$

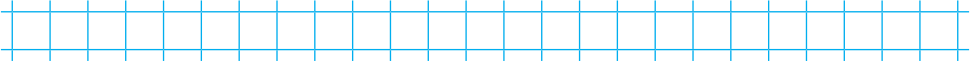
$$5 \text{ дм } 7 \text{ см} = \square \square \text{ см}$$

$$71 = \square \text{ дм } \square \text{ см}$$



1. Запиши тільки ті числа, що діляться на 2.

2, 7, 8, 10, 13, 14, 18, 19, 20.



2. Знайди значення виразів.

$3 \cdot 6 + 24 = \square \square$

$3 \cdot (16 - 8) = \square \square$


$3 \cdot 7 - 14 = \square \square$

$3 \cdot (7 + 2) = \square \square$

$18 : 2 + 54 = \square \square$

$3 \cdot 2 \cdot 3 = \square \square$

3. Склади і розв'яжи задачу за малюнком.



4. Накресли ламану, що складається із 4 відрізків, завдовжки 2 см кожний. Знайди довжину ламаної.

