



1. Обчисли.

$400 + 6 = \square\square\square$

$563 - 3 = \square\square\square$

$399 + 1 = \square\square\square$


$625 - 600 = \square\square\square$

$700 - 1 = \square\square\square$

$734 - 30 = \square\square\square$

2. Розв'яжи задачу.

Перший поїзд проїхав 500 км, а другий — на 1 км менше. Скільки кілометрів проїхав другий поїзд?



1. Обчисли.

$50 - 4 \cdot 6 = \square\square$

$35 + 3 \cdot 6 = \square\square$

$12 : (12 : 3) = \square$


$2 \cdot 6 + 4 \cdot 6 = \square\square$

$600 + 60 = \square\square\square$

$600 + 6 = \square\square\square$

2. Розв'яжи задачу.

Посадили 4 ряди каштанів, по 9 саджанців у кожному ряду, і 3 ряди кленів, по 6 саджанців у кожному ряду. Скільки всього саджанців посадили?



До с. 8–9



1. Устав пропущені числа.

$$700 + \square\square\square = 900$$


$$\square\square\square - 25 = 400$$

$$425 - \square\square\square = 25$$

$$525 - 5 = \square\square\square$$

2. Постав запитання до тексту, щоб одержана задача розв'язувалася трьома діями, а останньою була дія додавання.

Для робітників агрофірми збудували 3 будинки, по 6 квартир у кожному, і 4 будинки, по 8 квартир у кожному.



До с. 10–11



1. Обчисли.

$$\begin{array}{r} + 228 \\ + 254 \\ \hline \square\square\square \end{array}$$

$$\begin{array}{r} + 394 \\ + 326 \\ \hline \square\square\square \end{array}$$

$$\begin{array}{r} - 542 \\ - 231 \\ \hline \square\square\square \end{array}$$

$$\begin{array}{r} - 683 \\ - 298 \\ \hline \square\square\square \end{array}$$

2. Розв'яжи задачу. Склади та розв'яжи до неї обернену задачу, в якій потрібно знайти число 7.



1. Обчисли.

$$102 \cdot 6 = \square \square \square$$

$$48 : 16 = \square$$

$$320 \cdot 2 = \square \square \square$$


$$516 : 12 = \square \square$$

$$90 : 18 = \square$$

$$315 : 21 = \square \square$$

2. Розв'яжи задачу.

46 кг смородини та 45 кг порічок розклали у кошики, по 7 кг у кожен. Скільки кошиків для цього знадобилося?




1. Обчисли.

$$2 \cdot 208 - 516 : 3 - 72 : 18 = \square \square \square$$



2. Склади та розв'яжи задачу за коротким записом.

3 ряди — по 9 к. }
5 рядів — по 6 к. } на ?




До с. 16–17



1. Обчисли.

$$850 - 4 \cdot 10 - 120 : 5 = \square \square \square$$


$$350 : 5 \cdot 8 - 360 : 6 = \square \square \square$$



2. Склади та розв'яжи задачу за коротким записом.

81 кг — 9 б.

? — 6 б.



До с. 18–19



1. Виконай ділення з остачею.

$$56 : 6 = \square \text{ (ост. } \square \text{)}$$


$$35 : 4 = \square \square \square \square$$

$$78 : 8 = \square \text{ (ост. } \square \text{)}$$

$$48 : 9 = \square \square \square \square$$

2. Розв'яжи задачу.

46 вафель розклали в пакети, по 7 штук у кожен. Скільки пакетів для цього знадобилося? Скільки вафель залишилося?



До с. 20




1. Обчисли.

$$430 - 80 \cdot 3 = \square \square \square$$

$$(540 - 387) \cdot 3 = \square \square \square$$


$$(260 + 380) : 4 = \square \square \square$$

$$840 - 359 \cdot 2 = \square \square \square$$



2. Розв'яжи задачу.

За 4 дні вісім операторів набрали на комп'ютері 640 сторінок тексту, порівну кожен. По скільки сторінок набирав кожен оператор щодня?



До с. 21




1. Порівняй (>, <, =).

$$83 \cdot 4 + 83 \cdot 10 \square 83 \cdot 4$$


$$4 \cdot 200 \square 600$$

$$540 : 6 - 540 : 60 \square 540 : 10$$

$$600 : 30 \square 20$$



2. Знайди значення виразу $800 - a \cdot 10$, якщо $a = 3$.




1. Розв'яжи рівняння.

$$x + 280 = 650$$

$$x - 365 = 189$$

$$952 - x = 413$$



2. Розв'яжи задачу, склавши рівняння.

Коли з аеродрому відлетіло 13 вертольотів, то там залишилося ще 9 вертольотів. Скільки вертольотів було на аеродромі спочатку?

